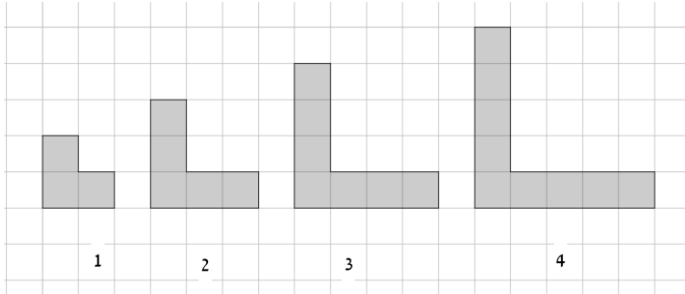
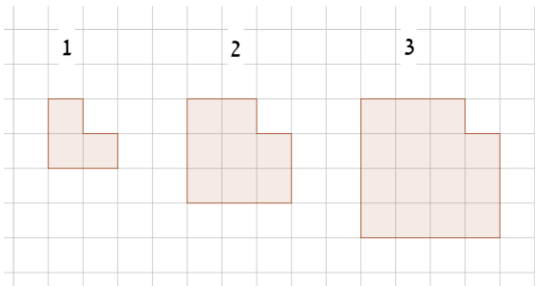


1. מצאו את החוקיות ומלאו את הטבלה



מקום בסדרה	מספר הריבועים	ביטוי אלגברי לחוקיות
1		
2		
3		
4		
5		
N		

2. מצאו את החוקיות ומלאו את הטבלה

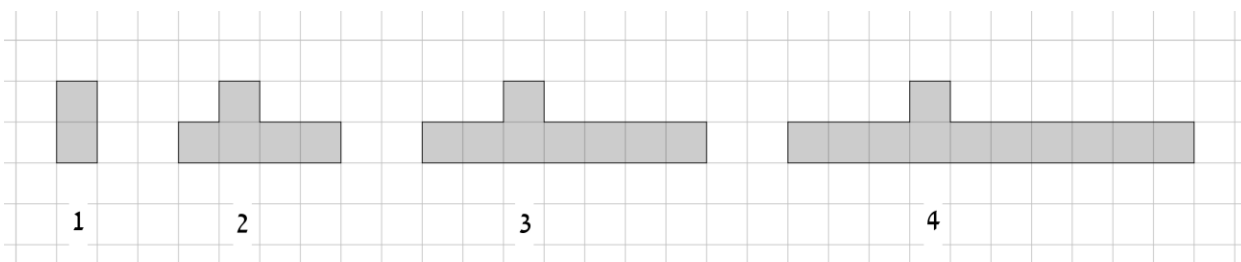


מקום בסדרה	מספר הריבועים	ביטוי אלגברי לחוקיות
1		
2		
3		
4		
5		
N		

3. מצאו את החוקיות בסדרת המספרים

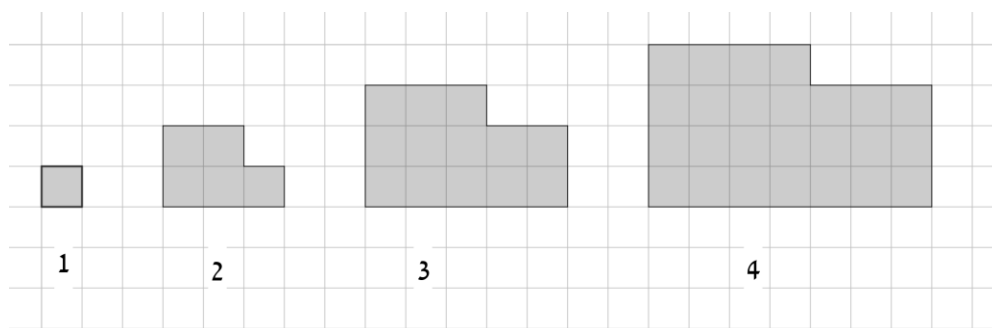
הסדרה					המספר הבא בסדרה	ביטוי המתאר את האיבר ה N בסדרה
5	10	15	20	?		
1	2	3	4	5		
4	7	10	13	?		
1	2	3	4	5		
17	27	37	47	?		
1	2	3	4	5		

4. מצאו את החוקיות ומלאו את הטבלה



מקום בסדרה	מספר הריבועים	ביטוי אלגברי לחוקיות
1		
2		
3		
4		
5		
N		

5. מצאו את החוקיות ומלאו את הטבלה



מקום בסדרה	מספר הריבועים	ביטוי אלגברי לחוקיות
1		
2		
3		
4		
5		
6		
N		

1. מצאו את החוקיות בסדרת המספרים

הסדרה	המספר הבא בסדרה	ביטוי המתאר את האיבר ה n בסדרה
1, 4, 9, 16, ...		
0, 2, 6, 12, 20, 30, ...		